

МЕСТО УЧЕБЫ										
-------------	--	--	--	--	--	--	--	--	--	--

№ участника

ФАМИЛИЯ															
ИМЯ															

ЗАДАНИЕ	1	2	3	4	5	6	7	8	СУММА
БАЛЛЫ									

1. Разбейте предложенный список на две равные группы:

Килиманджаро, Котопаху, Куба, Мадагаскар, Орисаба, Сахалин, Хонсю, Шивелуч, Этна, Ява

Выпишите в таблицу общий признак для всех объектов в каждой из групп.

Общий признак		
Объекты	<i>Килиманджаро</i>	

2. Соединив линиями слова, составьте тройки элементов научной терминологии "латинский - русский - греческий". Впишите недостающие элементы и найдите для каждого из них соответствующую пару.

<i>глоб</i>
<i>гомо</i>
<i>натура</i>
<i>планта</i>
<i>терра</i>

<i>вода</i>
<i>природа</i>
<i>растение</i>
<i>человек</i>
<i>шар</i>

<i>антропос</i>
<i>ге</i>
<i>гидро</i>
<i>физис</i>
<i>фитон</i>

3. Слева запишите название географического объекта, а справа - понятие, наименование которого произошло от данного топонима.

А Самые высокие горы Западной Европы	Альпы	Альпинизм	Горный туризм
Б Река на Северном Кавказе			Барашковая шапка казаков с плоским матерчатым или кожаным верхом
В Река в Бурятии, относящаяся к бассейну Енисея			Северо-восточный ветер на Байкале
Г Древнегреческий город на северо-западе Пелопонесса			Спортивные, учебные, театральные и т.п. соревнования; смотр, конкурс
Д Полуостровное государство в Юго-Восточной Азии			Резиновая обувь с одним ремешком между первым и вторым пальцем
Е Страна, выходящая к Балтийскому морю			Торжественный танец-шествие, а также музыка в ритме этого танца
Ж Полуостров и залив в Северной Америке, а также штат США			Зимняя куртка с капюшоном

4. Вычеркните "белую ворону" в следующем ряду:

бризы, мангры, муссоны, пассаты, самум, хамсин

Впишите общий признак для пяти понятий	
«Белая ворона» не обладает этим признаком, так как...	

5. Обозначьте буквами **С, Ю, В, З** соответственно самый северный, самый южный, самый восточный и самый западный объект.

Страна	Буква
<i>Беларусь</i>	
<i>Дания</i>	
<i>Ирландия</i>	
<i>Норвегия</i>	
<i>Франция</i>	

6. Определите закономерность в последовательности и впишите недостающий элемент:


<i>Москва - Санкт-Петербург - Новосибирск - ... - Нижний Новгород</i>	
Принцип последовательности	
Недостающий элемент	

7. Среди буквенной неразберихи отыщите и вычеркните слова, связанные с понятием «жилище». Из оставшихся букв составьте еще один термин и впишите его в пустую ячейку.


А	Б	Г	А	З	Е
Н	Ь	Р	Т	А	М
У	Д	Ю	Н	Я	Л
С	А	Р	К	А	Я
А	К	Л	И	Г	В
С	А	Я	В	М	А

Найденные слова:


8. Вписав в поля таблицы названия соответствующих штатов и номера рисунков, составьте пары «географический объект (буква) - изображение (цифра)». Для каждого рисунка сделайте поясняющую подпись: что (или кто) на изображении и обязательно укажите почему вы составили именно такие пары.




А




Б




В



1



2



3

	штат США	№
А		
Б		
В		

①	②	③
---	---	---